

Sommen met het getal.

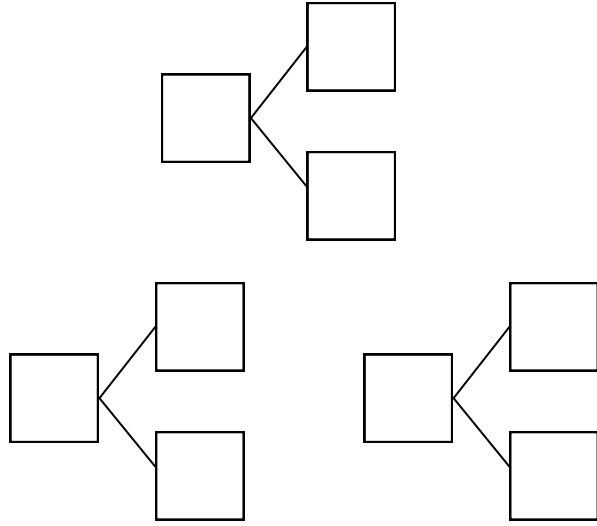
$$\square + \square = \square$$

$$\square - \square = \square$$

Het getal op de getallenlijn.



Splitsingen met het getal.



getal van de dag

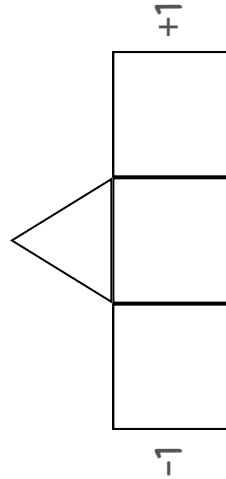
Het getal geturfd.



Het getal in opgestoken vingers.



Wat zijn de buurgetallen?



Hoe schrijf je dit getal?

Handwriting practice lines: a solid line, a dashed line, and another solid line.

ja nee

Is het een even getal?

Is het een priemgetal?

Is het een rond getal?

H	T	E

getal

van de dag

Sommen met het getal.

+

-

Hoe schrijf je dit getal?

Sommen met het getal.

1 meer

10 meer

100 meer

1 minder

10 minder

100 minder

Dit getal is deelbaar door...

2

5

8

3

6

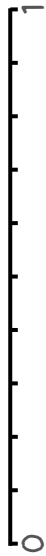
9

4

7

10

Het getal op de getallenlijn.



E	t	h	d
O			

Sommen met het getal.

: 1000 _____
: 100 _____
: 10 _____
x 10 _____
x 100 _____
x 1000 _____

decimaal
van de dag

Sommen met het getal.

+ 0.1 _____
+ 0.01 _____
+ 0.001 _____
- 0.1 _____
- 0.01 _____
- 0.001 _____

Rond het getal af op...

... helen _____
... tienden _____
... honderdsten _____

Hoe schrijf je dit getal?

