

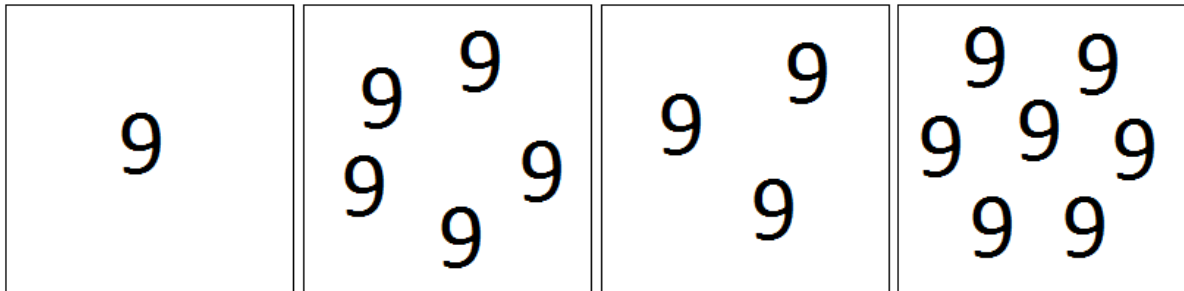
tafeltje

van



naam:

Schrijf de som op die bij het plaatje hoort en bereken de uitkomst.

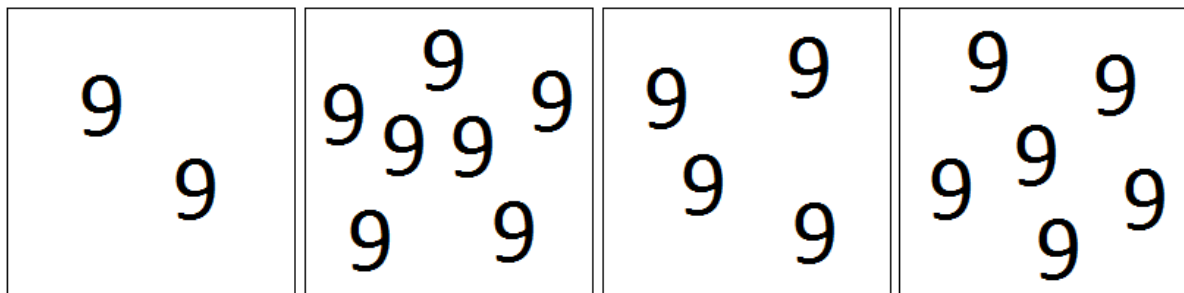


.....

.....

.....

.....



.....

.....

.....

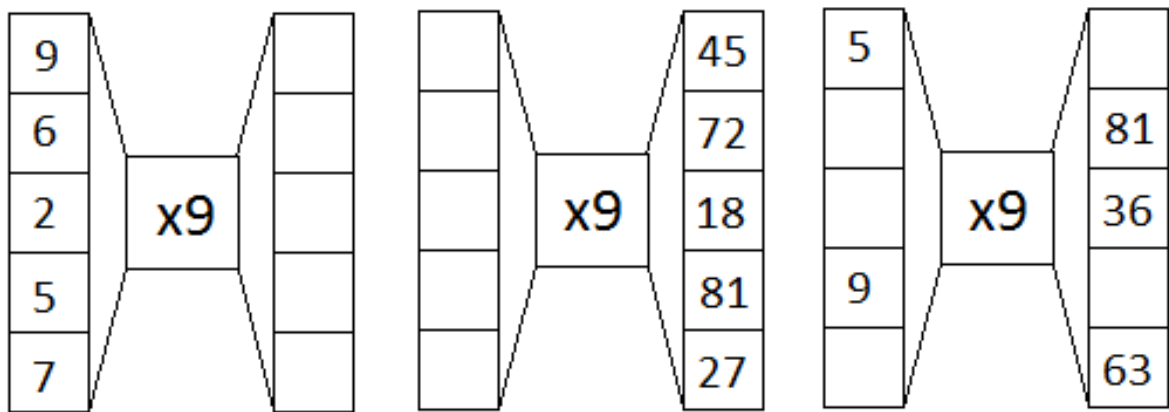
.....

- | | | | |
|----------------|---------------|----------------|---------------|
| 5 x 9 = | 9 x 9 = | 1 x 9 = | 4 x 9 = |
| 3 x 9 = | 3 x 9 = | 10 x 9 = | 8 x 9 = |
| 9 x 9 = | 1 x 9 = | 6 x 9 = | 9 x 9 = |
| 6 x 9 = | 4 x 9 = | 4 x 9 = | 6 x 9 = |
| 10 x 9 = | 3 x 9 = | 3 x 9 = | 7 x 9 = |

Schrijf op welke som bij dit verhaaltje hoort en reken hem uit!

Sem koopt drie bordspellen. Elk spel kost negen euro. Hoeveel moet Sem betalen?

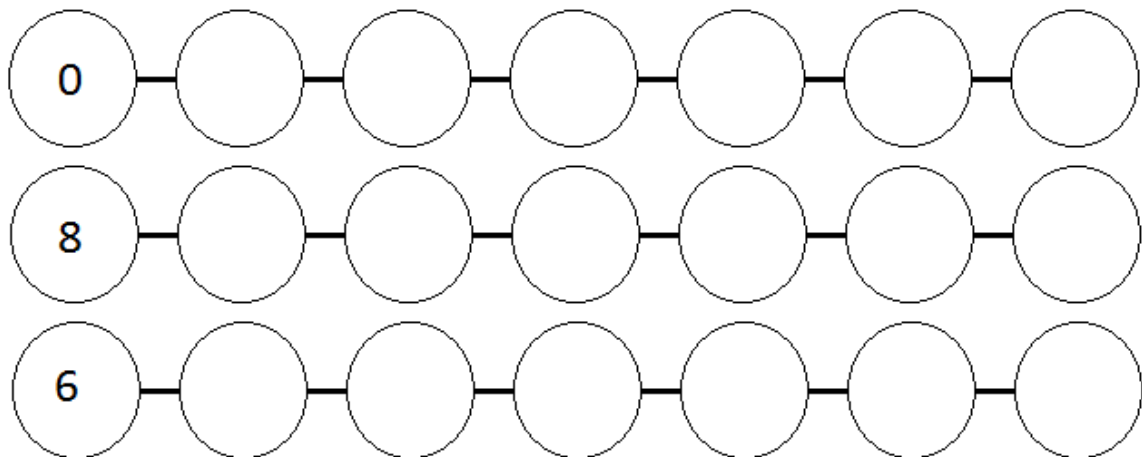
Hoeveel poten hebben negen honden samen?



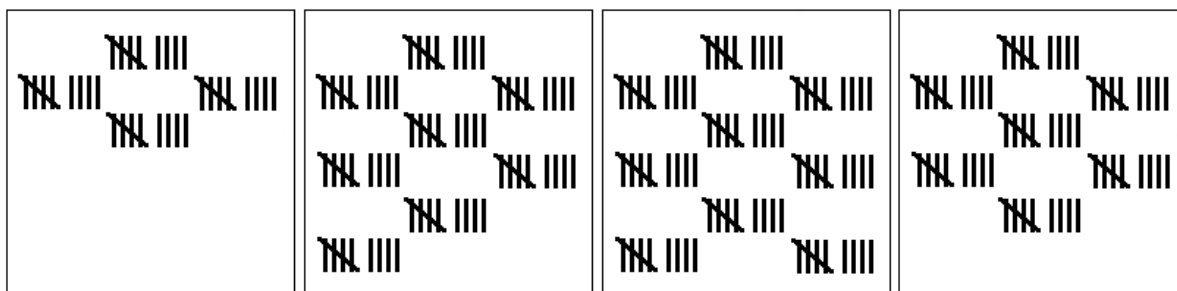
$6 \times 9 = \dots$	$7 \times 9 = \dots$	$2 \times 9 = \dots$	$8 \times 9 = \dots$
$8 \times 9 = \dots$	$7 \times 9 = \dots$	$10 \times 9 = \dots$	$6 \times 9 = \dots$
$8 \times 9 = \dots$	$5 \times 9 = \dots$	$2 \times 9 = \dots$	$9 \times 9 = \dots$
$5 \times 9 = \dots$	$9 \times 9 = \dots$	$4 \times 9 = \dots$	$1 \times 9 = \dots$
$4 \times 9 = \dots$	$1 \times 9 = \dots$	$4 \times 9 = \dots$	$8 \times 9 = \dots$

$9 \times 9 = \dots$	$2 \times 9 = \dots$	$6 \times 9 = \dots$	$2 \times 9 = \dots$
$2 \times 9 = \dots$	$10 \times 9 = \dots$	$4 \times 9 = \dots$	$8 \times 9 = \dots$
$8 \times 9 = \dots$	$1 \times 9 = \dots$	$2 \times 9 = \dots$	$9 \times 9 = \dots$
$4 \times 9 = \dots$	$2 \times 9 = \dots$	$6 \times 9 = \dots$	$8 \times 9 = \dots$
$7 \times 9 = \dots$	$7 \times 9 = \dots$	$4 \times 9 = \dots$	$1 \times 9 = \dots$

Tel met sprongen van 9.



Schrijf de som op die bij het plaatje hoort en bereken de uitkomst.

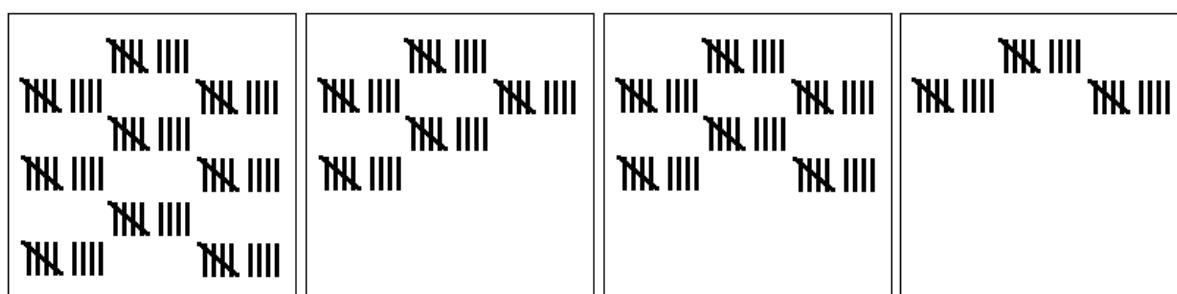


.....

.....

.....

.....



.....

.....

.....

.....

7 x 9 =

2 x 9 =

9 x 9 =

5 x 9 =

8 x 9 =

8 x 9 =

3 x 9 =

9 x 9 =

3 x 9 =

7 x 9 =

9 x 9 =

5 x 9 =

5 x 9 =

9 x 9 =

7 x 9 =

3 x 9 =

7 x 9 =

4 x 9 =

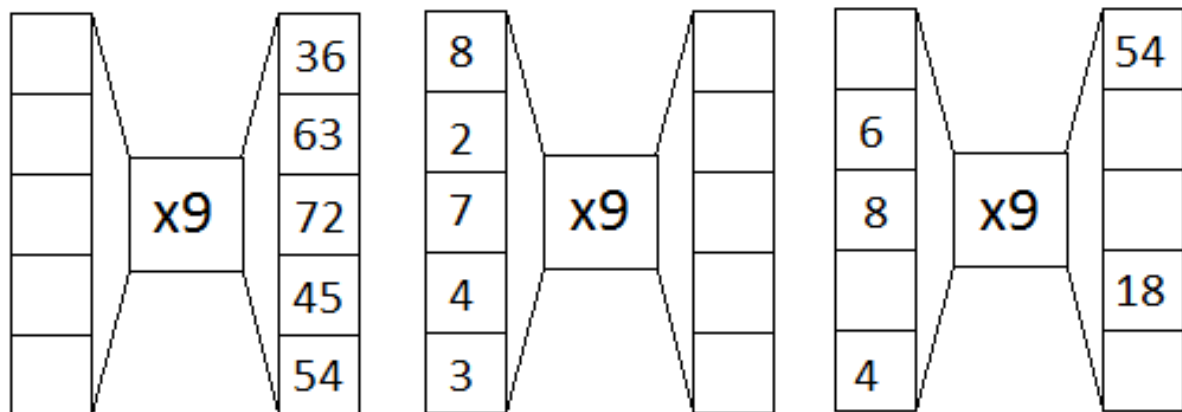
4 x 9 =

2 x 9 =

Schrijf op welke som bij dit verhaaltje hoort en reken hem uit!

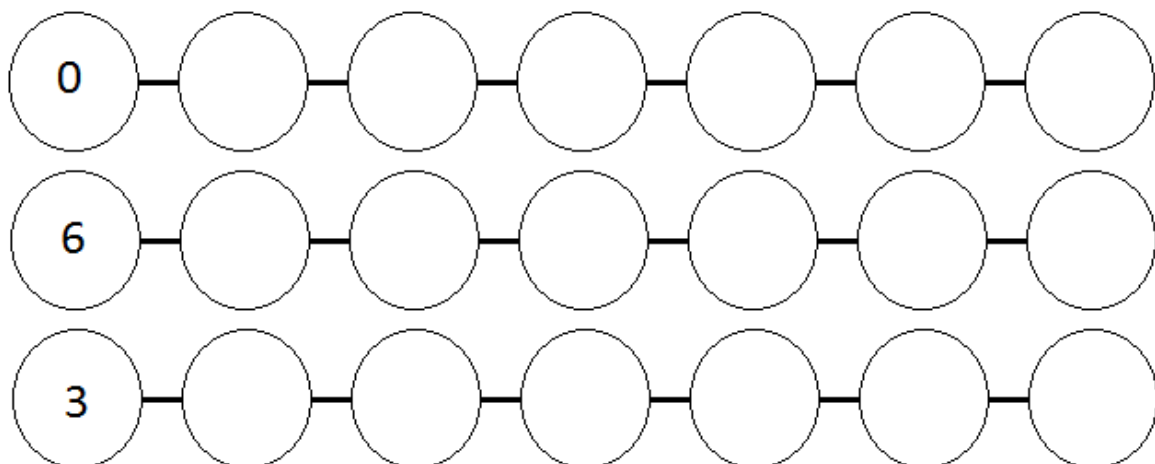
Er zitten negen cijfers op de plaat. Julie heeft negen platen. Hoeveel cijfers heeft ze?

Hoeveel is vier keer negen?

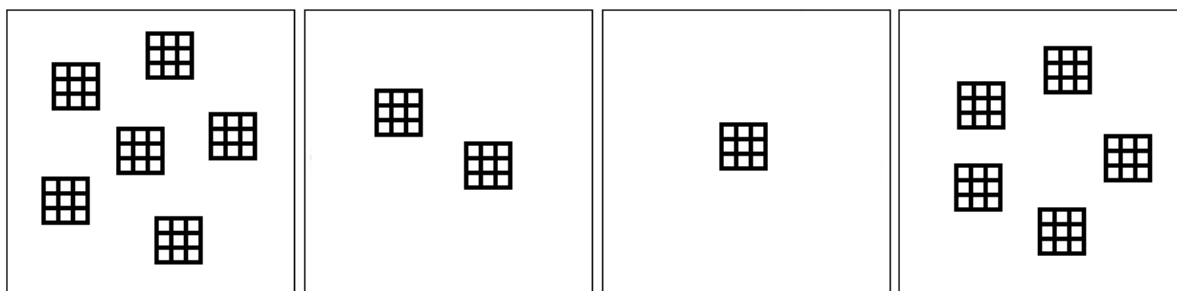


- | | | | |
|-----------------------|-----------------------|-----------------------|-----------------------|
| $8 \times 9 = \dots$ | $9 \times 9 = \dots$ | $7 \times 9 = \dots$ | $9 \times 9 = \dots$ |
| $8 \times 9 = \dots$ | $3 \times 9 = \dots$ | $3 \times 9 = \dots$ | $10 \times 9 = \dots$ |
| $3 \times 9 = \dots$ | $7 \times 9 = \dots$ | $8 \times 9 = \dots$ | $4 \times 9 = \dots$ |
| $9 \times 9 = \dots$ | $2 \times 9 = \dots$ | $10 \times 9 = \dots$ | $10 \times 9 = \dots$ |
| $6 \times 9 = \dots$ | $5 \times 9 = \dots$ | $2 \times 9 = \dots$ | $7 \times 9 = \dots$ |
| $4 \times 9 = \dots$ | $9 \times 9 = \dots$ | $5 \times 9 = \dots$ | $1 \times 9 = \dots$ |
| $8 \times 9 = \dots$ | $10 \times 9 = \dots$ | $7 \times 9 = \dots$ | $7 \times 9 = \dots$ |
| $1 \times 9 = \dots$ | $10 \times 9 = \dots$ | $6 \times 9 = \dots$ | $5 \times 9 = \dots$ |
| $10 \times 9 = \dots$ | $9 \times 9 = \dots$ | $7 \times 9 = \dots$ | $10 \times 9 = \dots$ |
| $7 \times 9 = \dots$ | $10 \times 9 = \dots$ | $5 \times 9 = \dots$ | $5 \times 9 = \dots$ |


Tel met sprongen van 9.



Schrijf de som op die bij het plaatje hoort en bereken de uitkomst.



.....



.....

- | | | | |
|---------------|----------------|---------------|---------------|
| 4 x 9 = | 10 x 9 = | 2 x 9 = | 7 x 9 = |
| 3 x 9 = | 2 x 9 = | 6 x 9 = | 3 x 9 = |
| 2 x 9 = | 5 x 9 = | 3 x 9 = | 9 x 9 = |
| 7 x 9 = | 6 x 9 = | 3 x 9 = | 1 x 9 = |
| 7 x 9 = | 4 x 9 = | 8 x 9 = | 4 x 9 = |

Schrijf op welke som bij dit verhaaltje hoort en reken hem uit!

Saar werkt negen uur per dag, vijf dagen per week. Hoeveel uur werkt Saar per week?

Luuk heeft negen kippen. Ze leggen allemaal drie eieren. Hoeveel eieren heeft Luuk?
