


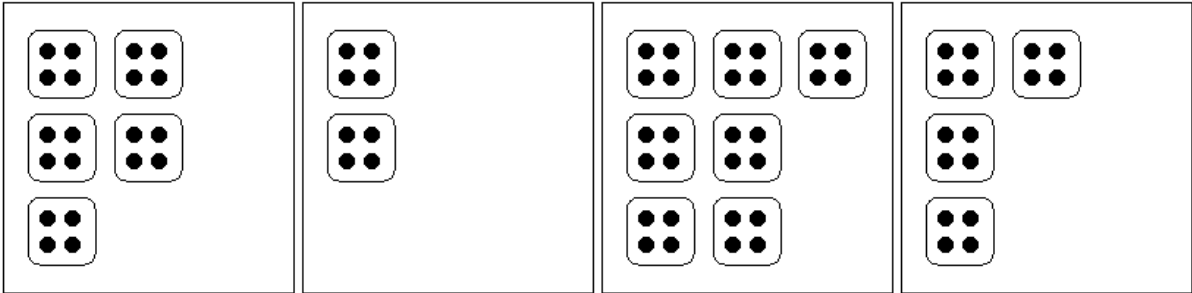
tafeltje

van

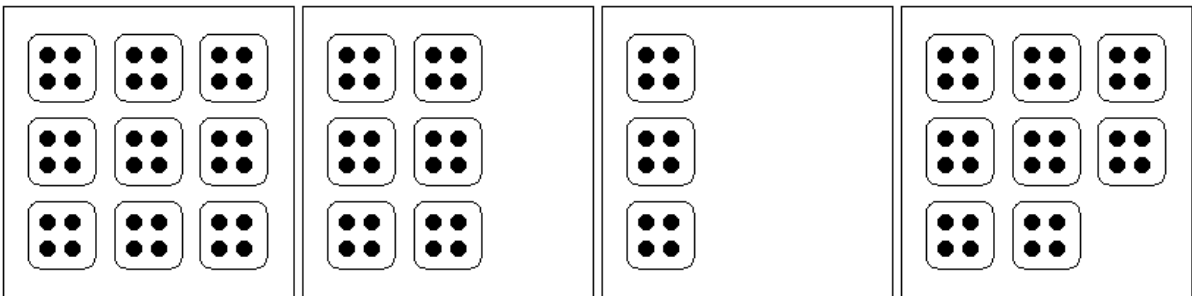


naam:

Schrijf de som op die bij het plaatje hoort en bereken de uitkomst!



.....



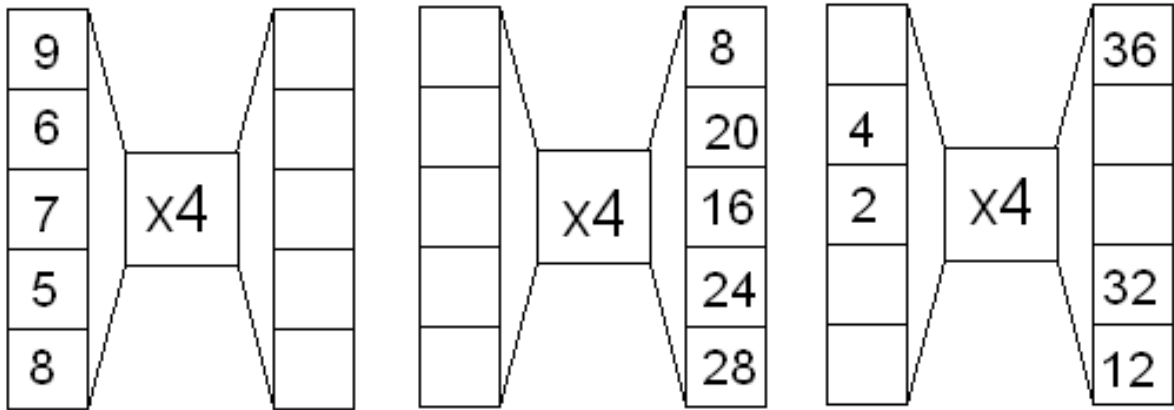
.....

- | | | | |
|---------------|---------------|----------------|---------------|
| 2 x 4 = | 2 x 4 = | 5 x 4 = | 3 x 4 = |
| 9 x 4 = | 9 x 4 = | 4 x 4 = | 7 x 4 = |
| 5 x 4 = | 3 x 4 = | 10 x 4 = | 9 x 4 = |
| 5 x 4 = | 5 x 4 = | 10 x 4 = | 1 x 4 = |
| 9 x 4 = | 2 x 4 = | 2 x 4 = | 8 x 4 = |

Schrijf op welke som bij dit verhaaltje hoort en reken hem uit!

Emma koopt zeven zakjes snoep. Ieder zakje kost vier euro. Hoeveel moet Emma betalen?

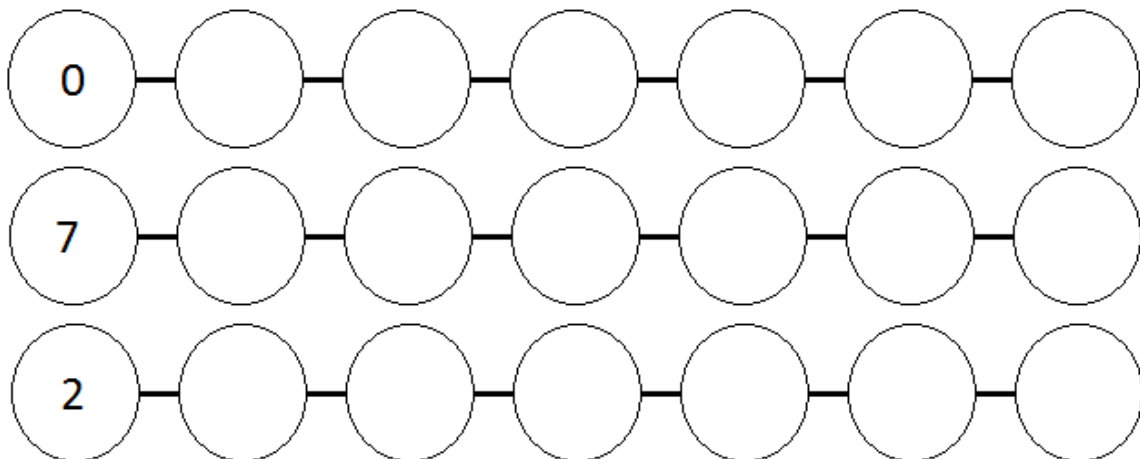
Hoeveel zijdes hebben vijf vierkanten?



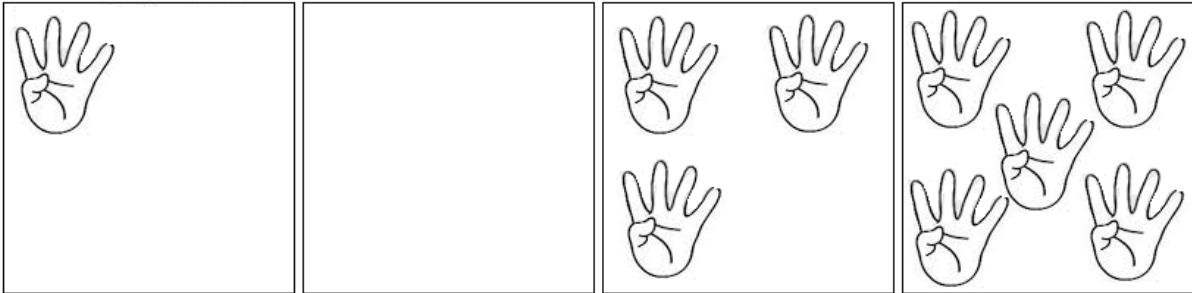
$8 \times 4 = \dots$	$6 \times 4 = \dots$	$10 \times 4 = \dots$	$3 \times 4 = \dots$
$8 \times 4 = \dots$	$3 \times 4 = \dots$	$4 \times 4 = \dots$	$10 \times 4 = \dots$
$5 \times 4 = \dots$	$3 \times 4 = \dots$	$3 \times 4 = \dots$	$1 \times 4 = \dots$
$5 \times 4 = \dots$	$3 \times 4 = \dots$	$7 \times 4 = \dots$	$3 \times 4 = \dots$
$2 \times 4 = \dots$	$7 \times 4 = \dots$	$8 \times 4 = \dots$	$5 \times 4 = \dots$

$9 \times 4 = \dots$	$4 \times 4 = \dots$	$1 \times 4 = \dots$	$10 \times 4 = \dots$
$6 \times 4 = \dots$	$4 \times 4 = \dots$	$4 \times 4 = \dots$	$4 \times 4 = \dots$
$1 \times 4 = \dots$	$4 \times 4 = \dots$	$5 \times 4 = \dots$	$6 \times 4 = \dots$
$1 \times 4 = \dots$	$2 \times 4 = \dots$	$7 \times 4 = \dots$	$8 \times 4 = \dots$
$7 \times 4 = \dots$	$3 \times 4 = \dots$	$2 \times 4 = \dots$	$1 \times 4 = \dots$

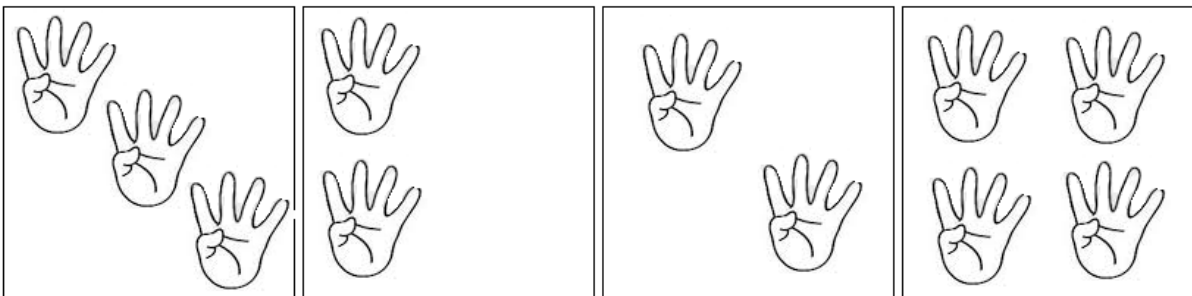
Tel met sprongen van 4.



Schrijf de som op die bij het plaatje hoort en bereken de uitkomst!



.....



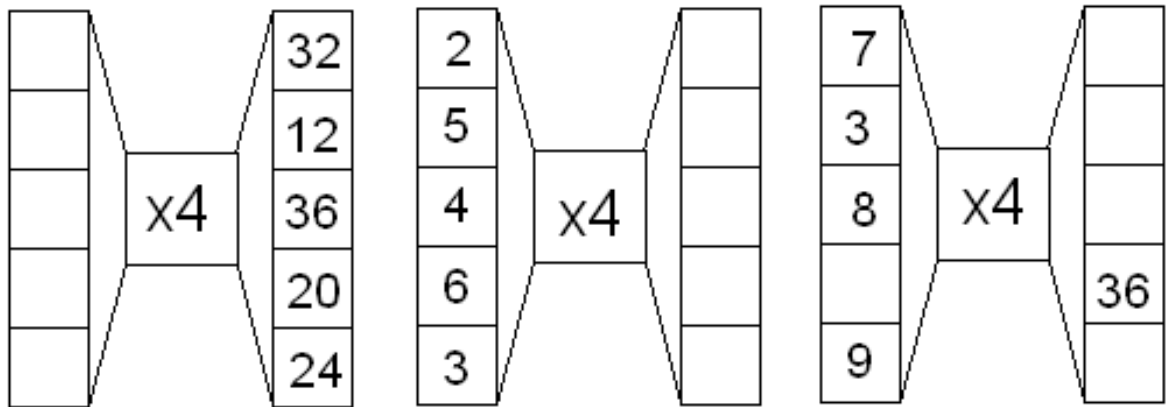
.....

- | | | | |
|---------------|---------------|----------------|---------------|
| 2 x 4 = | 2 x 4 = | 5 x 4 = | 3 x 4 = |
| 9 x 4 = | 9 x 4 = | 4 x 4 = | 7 x 4 = |
| 5 x 4 = | 3 x 4 = | 10 x 4 = | 9 x 4 = |
| 5 x 4 = | 5 x 4 = | 10 x 4 = | 1 x 4 = |
| 9 x 4 = | 2 x 4 = | 2 x 4 = | 8 x 4 = |

Schrijf op welke som bij dit verhaaltje hoort en reken hem uit!

**Er zitten vijf t-shirts in een verpakking. Marie heeft vier verpakkingen.
Hoeveel t-shirts heeft ze?**

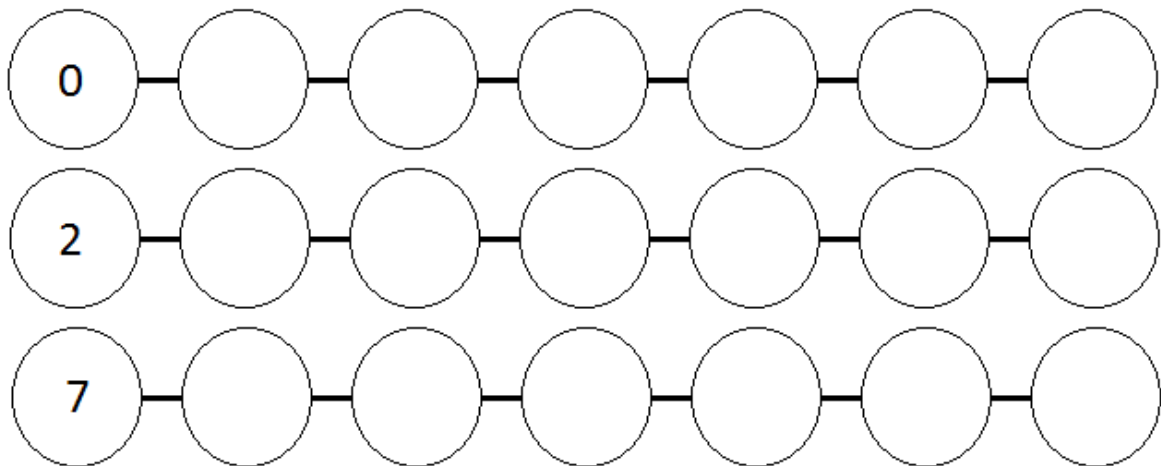
Hoeveel is drie keer vier?



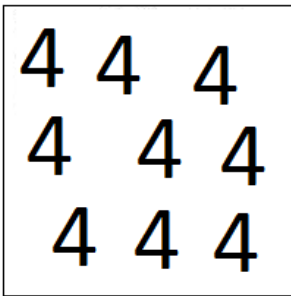
10 x 4 =	8 x 4 =	1 x 4 =	5 x 4 =
4 x 4 =	1 x 4 =	4 x 4 =	9 x 4 =
2 x 4 =	7 x 4 =	6 x 4 =	2 x 4 =
4 x 4 =	10 x 4 =	8 x 4 =	6 x 4 =
10 x 4 =	4 x 4 =	8 x 4 =	8 x 4 =

8 x 4 =	5 x 4 =	10 x 4 =	10 x 4 =
7 x 4 =	1 x 4 =	2 x 4 =	7 x 4 =
2 x 4 =	8 x 4 =	8 x 4 =	3 x 4 =
2 x 4 =	6 x 4 =	5 x 4 =	4 x 4 =
5 x 4 =	8 x 4 =	9 x 4 =	3 x 4 =

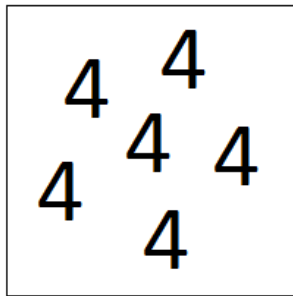
Tel met sprongen van 4.



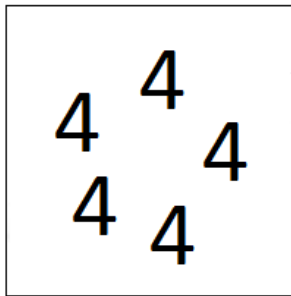
Schrijf de som op die bij het plaatje hoort en bereken de uitkomst!



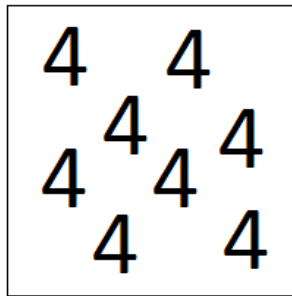
.....



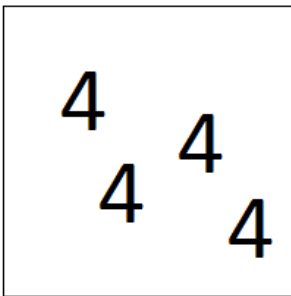
.....




.....




.....



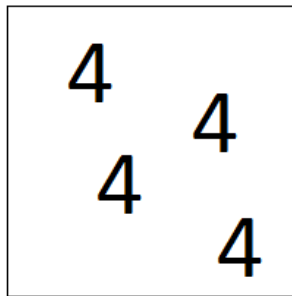
.....



.....



.....



.....

2 x 4 =

2 x 4 =

5 x 4 =

3 x 4 =

9 x 4 =

9 x 4 =

4 x 4 =

7 x 4 =

5 x 4 =

3 x 4 =

10 x 4 =

9 x 4 =

5 x 4 =

5 x 4 =

10 x 4 =

1 x 4 =

9 x 4 =

2 x 4 =

2 x 4 =

8 x 4 =

Schrijf op welke som bij dit verhaaltje hoort en reken hem uit!

Manon werkt vier uur per dag, zes dagen per week. Hoeveel uur werkt Manon per week?

Levi heeft vier tantes. Ze hebben allemaal twee kinderen. Hoeveel neefjes en nichtjes heeft Levi?
